

ОБЖ-10-4

**ВСЕРОССИЙСКАЯ ОЛИМПИАДА ШКОЛЬНИКОВ
ПО ОБЖ ШКОЛЬНЫЙ ЭТАП**

9-11 классы

Тестовые задания

Определите один правильный ответ.

За правильный ответ начисляется 2 балла. 0 баллов выставляется за неправильный ответ, а также если участником отмечено более одного ответа (в том числе правильный).

1. **При звонке с угрозой террористического акта следует:**
 - а) положить трубку и не слушать говорящего;
 - ☒ б) внимательно выслушать сообщение, отметив особенности голоса и т.д.
 - в) постараться вести долгий диалог с преступником
 - г) не принимать звонки с неизвестных номеров

2

2. **В каком направлении нумеруются квартальные столбы, установленные на пересечении лесных просек для указания номеров стандартных лесных кварталов?**
 - а) с востока на юг
 - б) с юга на запад
 - в) с юга на север
 - ☒ г) с запада на восток

2

3. **Наиболее опасным поражающим фактором разрушения плотины является:**
 - ☒ а) волна прорыва и затопление жилого сектора
 - б) разлив химически опасного вещества
 - в) внезапное обрушение зданий, сооружений
 - г) радиоактивное загрязнение местности

2

4. **Какое минимальное расстояние друг от друга необходимо соблюдать при переходе водоёма по льду группой?**
 - а) 5–6 м
 - б) 7–8 м
 - ☒ в) 3–4 м
 - г) 1–2 м

0

5. Обнаружена закладка из двух гранат. Установите минимальный радиус зоны эвакуации.

- а) 250 м
- б) 50 м
- в) 230 м
- г) 200 м

2



6. На изображении представлен танк



- а) Т – 80
- б) Т – 90
- в) Т – 14
- г) Т - 34

0

7. Началом военной службы по призыву считается день?

- а) получения повестки явиться в военкомат
- б) присвоения воинского звания «рядовой»
- в) наступления совершеннолетия
- г) прибытия в воинскую часть

✓

8. Какое воинское звание у министра обороны Российской Федерации А.Р. Белоусова?

- а) генерал
- б) генерал армии
- в) генерал майор
- г) маршал

2

9. Какое соотношение белков, жиров и углеводов соответственно является оптимальным для взрослых и детей старшего возраста?

- а) 1:1:3
- б) 1:1:4
- в) 1:4:1
- г) 4:1:1

2

10. Обзорный осмотр пострадавшего при оказании первой помощи выполняется с целью выявления признаков

- а) отравления
- б) ожога

2

- в) закрытой травмы
- г) наружного кровотечения

Определите два правильных ответа.


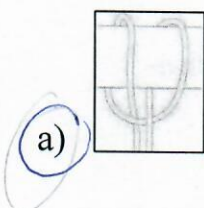
За каждый правильный ответ начисляется 2 балла. 0 баллов выставляется за неправильный ответ, а также если участником отмечены более двух ответов (в том числе правильные).

1. При движении организованных пеших колонн по проезжей части в тёмное время суток спереди и сзади колонны с левой стороны должны находиться сопровождающие с включёнными фонарями


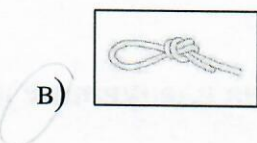
- а) спереди – белого цвета
- б) сзади – оранжевого цвета
- в) сзади – красного цвета
- г) сзади – жёлтого цвета
- д) спереди – зелёного цвета

2

2. Какие узлы относятся к вспомогательным?



2



3. Бросать спасательный круг в сторону тонущего рекомендуется так, чтобы он упал

- а) справа от тонущего
- б) слева от тонущего
- в) сзади от тонущего
- г) спереди от тонущего
- д) на тонущего

4

4. Какие классы пиротехнических изделий бытового назначения можно применять только на улице?

- а) I
- б) II
- в) III
- г) IV
- д) V

10

5. К основным принципам противодействия экстремистской деятельности относятся

- а) гласность
- б) приоритет мер, направленных на ликвидацию последствий экстремистской деятельности
- в) приоритет обеспечения безопасности Российской Федерации
- г) конфиденциальность
- д) приоритет обеспечения безопасности гражданина Российской Федерации

2

6. Определите существующие военные округа при военно-административном делении РФ в настоящее время.

- а) Северный флот
- б) Ленинградский военный округ
- в) Западный военный округ
- г) Балтийский флот
- д) Центральный военный округ

2

7. Воинские ритуалы условно можно подразделить на следующие виды:

- а) парадной деятельности
- б) учебно-боевой деятельности
- в) в повседневной деятельности
- г) гарнизонной и караульной служб
- д) боевой учёбы

4

8. В системе Госнаград Российской Федерации сохранены следующие государственные награды России и бывшего СССР:

- а) орден Святого Георгия и знак отличия Георгиевский крест;
- б) орден «За заслуги перед Отечеством»;
- в) военные ордена Суворова, Ушакова, Кутузова, Александра Невского, Нахимова;
- г) орден и медаль «За заслуги перед Отечеством».

2

9. Меры профилактики инфекционных заболеваний с трансмиссивным механизмом передачи инфекции:

- а) регулярное мытьё рук
- б) использование медицинских трёхслойных одноразовых масок
- в) проведение дезинсекции
- г) проведение дезинфекции
- д) использование москитных сеток

2

10. После вакцинации у человека формируется иммунитет:

- а) пассивный
- б) активный
- в) приобретённый
- г) врождённый
- д) видовой

2

Теоретические задания

Задание 1

1. Расположите предложенные фрагменты в верной последовательности, чтобы в итоге получилось определение.

- 5 3 1) или трамвайными путями, пешеходными или велосипедными дорожками
3 1 2) движения проезжие части, отделённые друг от друга разделительной полосой (а при её отсутствии – дорожным ограждением),
4 2 3) без пересечений в одном уровне с другими дорогами, железнодорожными
1 4 4) дорога, обозначенная специальным
2 5 5) знаком и имеющая для каждого направления

Ответ:

Дорога, обозначенная специальным знаком и имеющая для каждого направления движения проезжие части, отделённые друг от друга разделительной полосой (а при её отсутствии – дорожным ограждением) без пересечения в одном уровне с другими дорогами, железнодорожными или трамвайными путями, пешеходными или велосипедными дорожками

2. Запишите термин, определение которому Вы составили.

Ответ:

6.

Оценка задания. Максимальная оценка за правильно выполненное задание – 10 баллов, при этом:

- за правильно составленное определение выставляется **6 баллов**;
- за правильно указанный термин вставляется **4 балла**;
- при отсутствии правильных ответов баллы не начисляются.

Задание 2

Автомат Калашникова АК-74М – индивидуальное оружие, предназначенное для уничтожения живой силы противника. Неполная разборка автомата Калашникова проводится для чистки, смазки и осмотра автомата. Вам предлагается записать последовательность неполной разборки автомата в таблицу из предложенных вариантов.

1. Снять с предохранителя	7. Отвести рукоятку затворной рамы назад, осмотреть патронник, Отпустить рукоятку затворной рамы
2. Поднять фиксатор вверх и отделить газовую трубку со ствольной накладкой	8. Вынуть пенал и отделить шомпол
3. Отделить крышку ствольной коробки	9. Отделить возвратный механизм
4. Отделить магазин	10. Спустить курок
5. Отделить затворную раму с затвором	
6. Отделить затвор от затворной рамы	

Ответ:

1	2	3	4	5	6	7	8	9	10
4	8	10	8	3	9	5	6	7	2

1 7 16

2 12

1

31

Оценка задания. Максимальная оценка за правильно выполненное задание – **10 баллов**, при этом:

- за каждое правильную последовательность при неполной разборке начисляется по

1 баллу;






- если последовательность нарушена до определенного действия, баллы начисляются только за эти правильные действия **по 1 баллу;**

- при отсутствии правильных ответов баллы не начисляются.

Задание 3

В Вооружённых Силах Российской Федерации устанавливаются составы военнослужащих и воинские звания.

Укажите наименования воинских званий в соответствии со знаками различия на погонах.

									
1	2	3	4	5	6	7	8	9	10

Оценка задания. Максимальная оценка за правильно выполненное задание – ^{10.} 10 баллов, при этом:

- за каждое правильно указанное наименование воинского звания в соответствии со знаком различия выставляется **1 балл**;
- при отсутствии правильных ответов баллы не начисляются.

Задание 4

Для инфекционных заболеваний характерна цикличность течения.

1. Установите соответствие между наименованием периода инфекционного заболевания и его характеристикой.

Ответ:

Период инфекционного заболевания		Характеристика периода инфекционного заболевания
Начальный (продромальный)	→	Период проявления общих признаков заболевания. В этот период ещё нет чётко выраженных признаков конкретного заболевания
Угасания болезни (реконвалесценции)	→	Период, когда постепенно исчезают основные признаки болезни, начинается выздоровление организма, постепенно восстанавливаются нарушенные функции организма
Инкубационный	✗	Период максимального проявления наиболее существенных и специфических признаков конкретного заболевания
Основных проявлений болезни (разгара болезни)	✗	Промежуток времени от момента заражения до появления первых признаков болезни

2. Какое из перечисленных заболеваний передаётся воздушно-капельным путём?

10.

- а) гепатит А
- б) гепатит В
- в) корь
- г) малярия

Оценка задания. Максимальная оценка за правильно выполненное задание – 10 баллов, при этом:

- за каждое правильно установленное соответствие в части 1 начисляется 2 балла;

- за правильный ответ в части 2 начисляется **2 балла**;
- при отсутствии правильных ответов баллы не начисляются.

Максимальная оценка за работу – 100 баллов.