

Чурба
0-9-1

450

Всероссийская олимпиада школьников 2024-2025 учебный год
Школьный этап. Обществознание, 9 класс, задания.
Время выполнения 80 минут. Максимальное количество баллов 100

Задание 1. «Да» или «нет»? Если вы согласны с утверждением, напишите «да», если не согласны – «нет». Внесите свои ответы в таблицу в бланке ответов. Каждый правильный ответ – 1 балл. Всего за задание 10 баллов.

- 1 А) Все экономические ресурсы являются экономическими благами, но не все экономические блага являются ресурсами. —
- 0 Б) Наука, наряду с другими видами духовно-практической деятельности, является элементом культуры. —
- 1 В) Государства по форме правления может быть монархией или республикой ✓
- 0 Г) Историк и физик используют в научных описаниях и моделях категорию «время» по-разному. ✓
- 450 0 Д) Пандемия привела к существенному росту структурной безработицы в мире, поскольку многие предприятия были вынуждены временно не работать (например, фитнес-залы или театры). ✓
- 1 Е) Этнос в своём развитии проживает следующие стадии: род, племя, народность, нация. ✓
- 1 Ж) Конфликт несёт в себе не только разрушительное, но и конструктивное начало. ✓
- 1 З) Государство через Центральный банк следит за рыночным равновесием на валютном рынке ✓
- 1 И) Прибыль фирмы больше выручки фирмы. —
- 1 К). В традиционном обществе земля и труд являются основными факторами производства +

Задание 2. Ознакомьтесь с инфографикой¹ и выполните задания.



40

Задание 2.1 Для каждого предложения подберите подходящее окончание. Обратите внимание: окончаний дано больше, чем предложений. (за каждое правильное соответствие 1 балл), всего 5 баллов. Ответы внесите в таблицу в листе ответов

| | |
|---|---|
| 1. Большая часть респондентов боится, что в следствии нарушения кибербезопасности Г | А)..отказ от пользования социальными сетями |
| 2. Одним из способов профилактики киберпреступлений является 3 | Б) компанией Yandex в 2019 |
| 3. Исследование было проведено... 2 | В) ..продуктивность двухфакторной модели аутентификации |
| 4. На основании Инфографики нельзя понять В | Г) произойдет кража личных данных |
| 5. На основе инфографики можно понять, 2FA чаще всего используют/использовали Г | Д) компании Lenovo в 2019 |
| | Е) в банковской сфере |
| | Ж) компании Lenovo в 2012 |
| | З) система двухфакторной аутентификации |
| | И) придется менять пароли |
| | К) в облачном хранении |

Задание 2.2 Какие вы еще можете назвать методы профилактики киберпреступлений? Сформулируйте до 3-х суждений, содержащих информацию - как метод профилактики киберпреступления поможет интернет-пользователю не стать жертвой киберпреступления (за каждый названный метод 1 балл, за сформулированное суждение содержащие причинно-следственный вывод 2 балла, всего за задание 9 баллов). 1) не разбрасывать лишней информации

2) не провоцировать конфликты 3) не пользоваться сервисами

Задание 3. Установите соответствие между авторами и названиями их произведений. Обратите внимание: имён авторов больше, чем названий произведений. Запишите ответы в таблицу в листе ответов. Каждое соответствие – 1 балл. Всего за задание 5 баллов.

| ПРОИЗВЕДЕНИЯ | ИМЕНА МЫСЛИТЕЛЕЙ, УЧЕНЫХ |
|--|--------------------------|
| 1. «Философические письма» Б 0 | А) А.Н. Радищев |
| 2. «Исследование природы и причин богатства наций» А 0 | Б) Адам Смит |
| 3 «История государства российского» 2 | В) П. Я. Чаадаев |
| 4 «Путешествие из Петербурга в Москву» В 0 | Г) Эразм Роттердамский |
| 5. «Похвала глупости» Г 1 | Д) Н.М. Карамзин |
| | Е) А. И. Герцен |

Задание 4. Проанализируйте ситуации с новостных сайтов и определите к какой отрасли права мы могли бы отнести представленные случаи, свой ответ обоснуйте с опорой на признаки отрасли права. В некоторых ситуациях могут быть представлены 2 отрасли права на одну ситуацию, достаточно указать одну. За правильно названную отрасль права 2 балла, за обоснование 2 балла. Всего за задание не более 16 баллов.

А). МОСКВА, 6 июля – РИА Новости. РЖД на фоне повышенного спроса запустили на юг, в том числе, поезда из не новых, но соответствующих всем требованиям вагонов с билетами по более низким ценам сообщил в интервью РИА Новости заместитель генерального директора компании Дмитрий Пегов. "Готовясь к лету, мы привели в порядок и вывели на линии все

действующие пассажирские вагоны, которые в принципе есть у холдинга", - рассказал он, отметив, что билеты стоят в этих поездах дешевле.

Б). МОСКВА, 25 февраля – РИА Новости. Глава Духовного управления мусульман (ДУМ) России муфтий Равиль Гайнутдин выступил со специальным заявлением к духовенству и прихожанам общин, которое будет оглашено во всех мечетях страны во время пятничной коллективной молитвы....





В) КАЗАНЬ, 5 июля– РИА Новости. Глава Татарстана Рустам Минниханов подписал распоряжение о введении в Татарстане режима чрезвычайной ситуации регионального уровня в связи с засухой и гибелью сельхозкультур.

Г) КРАСНОЯРСК, 6 июля - РИА Новости. ... житель города Шарыпово Красноярского края, придя к матери в гости, разозлился из-за числа проживающих в квартире кошек и выбросил их с балкона девятого этажа, сообщает краевой главк ГУ МВД.

Задание 5. Ученик готовил презентацию по обществознанию, но в её итоговой версии произошёл сбой, в результате чего перемешались иллюстрации. Помогите восстановить презентацию по имеющимся иллюстрациям. Заполните схему, указав общую для всех изображений категорию (обобщающее понятие), а также составляющие её элементы. Впишите в соответствующие ячейки буквенные обозначения иллюстраций, которые относятся к названным Вами элементам. За каждый заполненный элемент схемы 1 балл, всего за задание 7 баллов.

06

будущие
деятельности:
- балеты
- концерты
- фильмы
- зрелище

| | |
|---|---|
| <p>А</p>  | <p>Б</p>  |
| <p>В.</p>  | <p>Г.</p>  |

Задание 6. Прочитайте текст, раскрывающий суть 3 -х мировых религий. Заполните, таблицу в бланке ответов:

- 1) подпишите колонки таблицы, определив названия соответствующих религий (по 1 баллу за каждую правильно названную религию);
- 2) впишите в них порядковые номера предложений, отражающих то или иное религиозное мировоззрение. За каждый правильный ответ 1 балл. За задание 13 баллов.

~~Ислам~~

«Священной книгой этой религии является Коран (1). Согласно этому религиозному вероучению, человек создан по образу и подобию Божьему (2). Карма, т.е. сумма всех поступков и мыслей человека в течение его жизни – одно из важнейших понятий в этой

Ислам - 1, 4, 9 3

Христианство - 2, 8, 10 3

Буддизм - 3, 5, 6, 7 4
3 + 10 = 13 (130)

религии (3). Согласно вероучению данной религии, Аллах создал всё сущее из ничего и привёл в упорядоченное состояние. Он управляет всеми процессами и событиями в сотворенном Им мире (4). В основе религиозного мировоззрения лежит учение о Четырёх Благородных Истинах: о страдании, о происхождении и причинах страдания, о подлинном прекращении страдания и устранения его источников, об истинных путях к прекращению страдания (5). Основателем учения был Будда Шакьямуни (6). Бесконечная цепь перерождений определяется в этой религии как сансара (7). Крещение и причащение являются важнейшими из таинств, признаваемыми в данной религии (8). Согласно правилам этой религии каждый верующий должен совершать пятикратную молитву каждый день (9) *С точки зрения приверженцев данного вероисповедания, основателем был Иисус Христос (10)»

Задание 7. Решите экономическую задачу. За правильное решение с расчетами и объяснением 3 балла.

Наталья Сергеевна является постоянным клиентом магазина «Вкус» на протяжении полугода. Каждый раз, когда Наталья Сергеевна приходит в магазин (это случается 5 раз в месяц), она совершает покупку на 1000 рублей, и каждый раз ей предлагают зарегистрировать карту магазина, которая позволяет накапливать 7 % от суммы покупок на специальный счёт (чего она не делает). Сколько бы денег было на этом счете у Натальи Сергеевны, если бы она согласилась зарегистрировать карту при своём первом посещении магазина? Приведите необходимые расчёты. *5 * 6 = 30 — сколько раз бы зашло*

*1000 * 0,07 * 30 = 2100 руб — сумма, которая могла бы быть. Ответ: 2100 руб*

Задание 8. Сопоставьте метод исследования и пример. Результаты сопоставления внесите в таблицу в бланке ответов, за каждое правильное сопоставление 2 балла. (10 баллов за полный ответ).

| Методы исследования | Примеры |
|-------------------------------------|---|
| 1. Физический эксперимент. <i>Д</i> | А. Визуализация Вселенной Millennium отображает более 10 млрд частиц и позволяет проследить за распределением материи в кубической области Вселенной с шириной по одной из сторон в 2 млрд световых лет. |
| 2. Наблюдение. <i>В</i> | Б. Галилей сбрасывал два шара различной массы со знаменитой падающей башни в Пизе, чтобы продемонстрировать, что время падения не зависит от массы шара |
| 3. Опрос <i>Г</i> | В. Ле Райё, житель и уроженец Канады в 1801 попал в плен к индейцам племени сиу. В течение своей неволи, он вёл журнал описывая окружающую местность и индейские племена, ее населявшие. |
| 4. Прогнозирование <i>А</i> | Г. По результатам исследования АНО «Россия — страна возможностей» 40% студентов ответили, что не уверены, будут ли вообще работать по изучаемой специальности. |
| 5. Моделирование. <i>Д</i> | Д. «В ближайшее время стоит ждать новых толчков на территории Турции, могут быть еще и афтершоки — повторные толчки меньшей силы, чем основной, — отметила эксперт сейсмолог. Происходящее, по словам ученых, объясняется тем фактом, что по территории Турции и Греции проходит Северо-Анатолийский разлом». |

Задание 9. Решите задачу

«Известный блогер выступающий с критикой строительства промышленных объектов высказал возражение против отмены решения о запрете контроля загрязнения районов крайнего Севера в ходе реализации проекта по строительству «Северного потока 2». По

поводу его высказывания разгорелась полемика, в которой представители Российской Экологической академии объявили блогера скрытым лоббистом Союза Промышленников, выступающим против проведения контроля. **Верны ли выводы Российской Экологической академии? Свой ответ обоснуйте. (За решение задачи 3 балла)**

Верны. С нашей экологической ситуацией необходимо следить за загрязнением 25

Задание 10. Прочитайте текст и ответьте на вопросы

По большому счету, потребительские тенденции определяются поколением нулевых.

Сегодня мы живем в мире «по требованию», где каждый день передается тридцать миллиардов сообщений WhatsApp и где 87 % молодых людей в США утверждают, что **никогда не расстаются со своим смартфоном**, а 44 % ежедневно используют **функцию видеокамеры**.

Этот мир основан на **обмене информацией** между пользователями и пользовательском контенте. Это мир категории «сейчас»: мир реального времени, где мгновенно даются указания маршрута движения, а продукты питания доставляются прямо до двери. Этот «мир категории сейчас» требует от компаний **незамедлительного отклика в реальном времени**, где бы они ни находились и где бы ни находились их клиенты или потребители.

Было бы ошибочно предполагать, что это является отличительным признаком только высокодоходных экономик. Возьмем для примера сегмент онлайн-покупок в Китае. День 11 ноября 2015 года было объявлено: «Днем одиноких» группой Alibaba Group, сервисом электронной коммерции, который обработал сделки в сети Интернет на сумму более 14 млрд долл. США, при этом 68 % продаж было совершено через мобильные устройства.

Другим примером являются **страны Африки к югу от Сахары** – быстро развивающийся регион в отношении распространения абонентского использования мобильных телефонов, демонстрирующий темпы развития мобильного Интернета, опережающие распространение телефонии по наземным линиям связи. В течение ближайших пяти лет компания GSM Association прогнозирует привлечение 240 млн новых пользователей мобильного Интернета в странах Африки к югу от Сахары. Если развитые страны имеют самые высокие темпы распространения социальных сетей, то страны Восточной Азии, Юго-Восточной Азии и Центральной Америки демонстрируют превышение среднего глобального уровня на 30 %, который растет опережающими темпами WeChat (Weixin), китайский текстовый и голосовой мобильный сервис, привлек около 150 млн пользователей всего за 12 месяцев до конца 2015 года, обеспечивая рост в годовом исчислении на уровне не менее 39 %.

Кlaus Schwab Четвертая промышленная революция

10.1. Klaus Schwab в приведенном отрывке говорит об обществе массового потребления развитие этого общества в XXI веке принесло не только благо для всего человечества но и создало угрозу существованию всей планеты. Как ученые общественных наук и мировые политики называют такие угрозы (за термин 1 балл). Какие конкретные угрозы (проблемы) вы можете назвать. Назовите 1-3 угрозы/проблемы и дайте краткую характеристику каждой. За каждую названную проблему 1 балла, за характеристику 1 балла. За все задание 10 баллов.

10.2 Klaus Schwab пишет о возросшем обмене информацией и его колоссальном влиянии на все стороны жизни человечества. Пользуясь текстом и своими знаниями из разных школьных предметов приведите 2-3 примера о том, как обмен информацией и ускорение скорости обмена информацией помогают решать угрозы/проблемы, которых вы писали в ответе на предыдущий вопрос. За каждый пример 3 балла при условии развернутого ответа. Максимальное количество баллов 9.